



Les briques



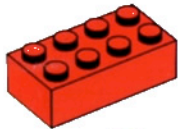
Brique 2 X 2



Brique en pente inversée
2 X 2




Brique ronde 2 X 2





Brique 2 X 4




Brique en pente inversée
2 X 3




Brique en pente
2 X 3



Brique 2 X 6



Brique en pente
2 X 2



Brique 8 X 16

Pour calculer la grandeur d'une brique **régulière**, comptez le nombre de **tenons (petits points)** sur celle-ci, en largeur et en longueur.
Pour calculer la grandeur d'une brique **irrégulière**, comptez le nombre de **trous** sous celle-ci, en largeur et en longueur.